



امتحان مادة : الجغرافيا الاقتصادية
للفف : الحادي عشر (الفترة الصباحية)
للعام الدراسي ١٤٤٤هـ - ٢٠٢٢/٢٠٢٣م
الدور الأول - الفصل الدراسي الثاني

- زمن الامتحان (ساعتان) ● عدد صفحات أسئلة الامتحان: (٩) صفحات.
- الإجابة في الدفتر نفسه .

		اسم الطالب
الصف		المدرسة

التوقيع بالاسم		الدرجة		السؤال
المصحح الثاني	المصحح الأول	بالحروف	بالأرقام	
				١
				٢
				٣
				٤
مراجعة الجمع	جمعه			المجموع
				المجموع الكلي

أجب عن جميع الأسئلة الآتية

السؤال الأول: ضع دائرة حول رمز الإجابة الصحيحة لكل مفردة من المفردات الآتية:

١- العام الميلادي الذي تم التوقيع فيه لإنشاء منظمة التجارة العالمية (الجات):

أ- ١٩٣٧ ب- ١٩٤٧ ج- ١٩٥٧ د- ١٩٦٧

٢- يُعتبر انتقال شخص من بلاده متجهاً إلى بلد آخر لحضور مؤتمر في السياحة:

أ- سائح ب- مسافر ج- متنزه د- زائر

٣- الجدول الصحيح الذي يمثل مميزات النقل بالأنابيب:

أعلى أنواع النقل
لا يتأثر بالظروف الجوية
يمتد لمسافة طويلة

ب -

أرخص أنواع النقل
يتأثر بالظروف الجوية
يمتد لمسافة قصيرة

أ -

أرخص أنواع النقل
لا يتأثر بالظروف الجوية
يمتد لمسافة طويلة

د -

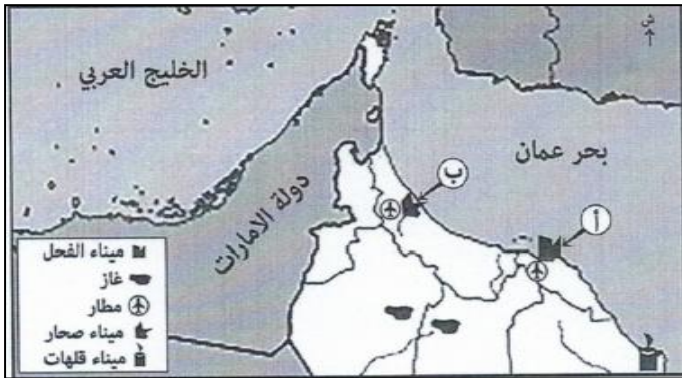
أرخص أنواع النقل
لا يتأثر بالظروف الجوية
يمتد لمسافة قصيرة

ج -

من الموقع (أ) إلى الموقع (ب) هي:



٤- أفضل وسيلة مستخدمة لنقل المادة



أ- السفن. ج- الشاحنات.
ب- الطائرات. د- الأنابيب.

المادة : الجغرافيا الاقتصادية الصف : الحادي عشر (الفترة الصباحية) - الدور الأول
الفصل الدراسي الثاني - العام الدراسي ٢٠٢٢/٢٠٢٣ م

تابع السؤال الأول:

٥- تُعد من أنواع السياحة المكلفة والمحدودة:

أ- الترفيهية ب- الفضائية ج- البيئية د- الرياضية

٦- من أكثر الشعوب القديمة التي عرفت بتمهيد شبكة كبيرة من الطرق البرية:

أ- اليونان ب- الصينيون ج- الرومان د- الفراعنة

٧- من خلال الجدول الذي أمامك ، فإن الدولة الأوروبية الأعلى جذباً للسياح عام ٢٠١٣م:

الدولة	عدد السياح / مليون ٢٠١٣م
إسبانيا	٥٥,٧
إيطاليا	٤٧,٧
ألمانيا	٣٧,٨
بريطانيا	٣١,٢

أ- إسبانيا ب- إيطاليا

ج- بريطانيا د- ألمانيا

٨ - تُعد نهائيات كأس العالم أحد مظاهر التطور السياحي في القرن الميلادي:

أ- ١٨ ب- ١٩ ج- ٢٠ د- ٢١

٩- تقع حديقة الصخور في المحافظة المشار إليها بالرقم:



أ- ١ ب- ٢

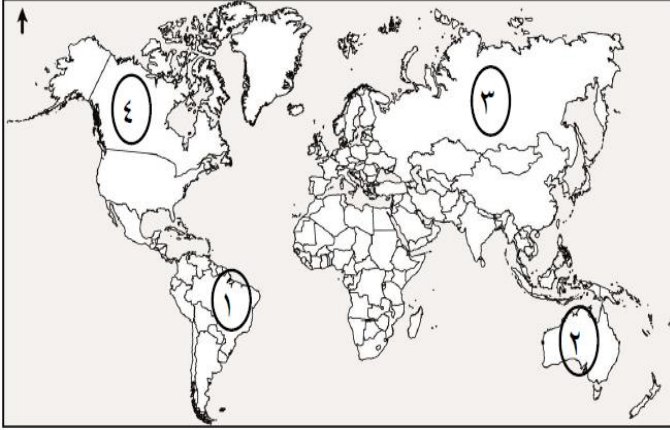
ج- ٣ د- ٤

١٠- تشكل نسبة السياحة الثقافية من إجمالي سوق السياحة حوالي:

أ- ٣٦% ب- ٣٧% ج- ٣٨% د- ٣٩%

تابع السؤال الأول :

١١- من أوائل الدول المطبقة لنظام الحسابات السياحية يُشار إليها في الخريطة بالرقم:



ب-٢

أ-١

د-٤

ج-٣

١٢- من الطرق البرية القديمة الممتدة من بحر البلطيق في الشمال حتى سواحل البحر المتوسط في الجنوب:

د-الشاي.

ج-العنبر.

ب- اللبان.

أ-الحريير.

السؤال الثاني:- أجب عن جميع الأسئلة التالية

أولاً:- أ-عرف كلاً من :-

١-النقل المستدام :-

.....

.....

٢.القمر الصناعي

.....

.....

المادة : الجغرافيا الاقتصادية الصف : الحادي عشر (الفترة الصباحية) - الدور الأول
الفصل الدراسي الثاني - العام الدراسي ٢٠٢٢/٢٠٢٣ م

تابع : السؤال الثاني:-

ب- اذكر اثنين لكل من:-

١. النتائج المترتبة على انضمام سلطنة عُمان لمنظمة التجارة العالمية.

أ-.....

ب-.....

٢ - مميزات النقل الجوي.

أ-.....

ب -.....

ثانياً:- صنف في الجدول التالي الأقمار الصناعية تبعاً للمهام التي تقوم بها:
(أبحاث علمية - اتصالات - مراقبة سطح الأرض - أرصاد جوية).

نوع القمر	المهام
landsat
Nailesat
Gose

ثالثاً: وضح النتائج المترتبة على أثر النشاط السياحي في البيئة الجبلية:
النشاط السياحي.

النشاط السياحي.	تأثيره
استخدام الممرات الجبلية في جبال الهملايا.
مرور السيارات في مراعي جبال ظفار.
سير المركبات بسرعة بطيئة في الجبال.

المادة : الجغرافيا الاقتصادية الصف : الحادي عشر (الفترة الصباحية) - الدور الأول
 الفصل الدراسي الثاني - العام الدراسي ٢٠٢٢/٢٠٢٣ م

السؤال الثالث :-

أولاً:- أ. صنّف المحميات الطبيعية في سلطنة عُمان حسب المحافظة التي توجد بها:-
 (خور الدهاريز- جبل قهوان الطبيعية- السرين الطبيعية)

محافظة مسقط	محافظة جنوب الشرقية	محافظة ظفار
.....

ب- أمامك مجموعة من الصور التي تمثل أنواع السياحة المختلفة ..

ادرسها ثم أجب بـ (١) أو (٢)



(٢)



(١)

١- تعتبر أهم الأنواع السياحية وفق إحصائيات منظمة السياحة العالمية (...)

٢- من أنواع السياحة التي تتميز باستمراريتها (...)

ثانياً:- خطط ثلاثة من السياح العُمانيين تنفيذ رحلة بحرية من مدينة شناص إلى مدينة خصب بهدف التمتع بمشاهدة الدلافين البحرية والسلاحف بالإضافة إلى الفيوردات التي تتميز بها المحافظة، كما زاروا عددا من الجزر العُمانية الواقعة في مضيق هرمز" في ضوء ذلك ، صنّف في الجدول التالي ما يلي :

.....	الوجهة	معايير تصنيف السياحة
.....	الشكل التنظيمي	
.....	المعالم	
.....	وسيلة النقل	

تابع : السؤال الثالث:

ثالثاً: ادرس الجدول التالي ثم اجب عما يلي:-

النشاط.	القوى العاملة الوطنية.	القوى العاملة الوافدة.
شركة الطيران.	٣١٥٢	٢١٦٣
مكاتب السفر والسياحة.	١٢٦٥	٢٣١٢
الفنادق والمنتجعات	٢٧٢٤	٦٦٠٨

١- ما النشاط الذي ترتفع فيه القوى العاملة الوطنية عن القوى الوافدة ؟

.....

٢- ما النشاط الذي سجل أعلى فارق في العدد بين القوى العاملة الوافدة و القوى العاملة الوطنية؟

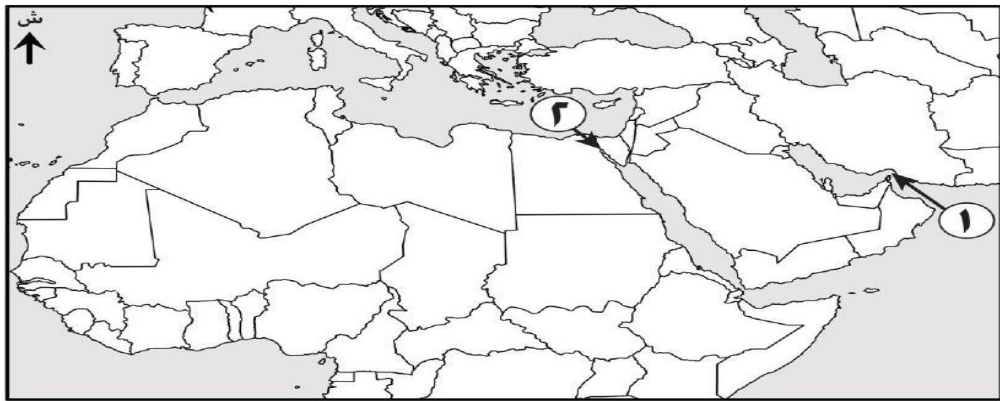
.....

٣- حدد نوع العلاقة بين عدد السياح وتوفر الإمدادات السياحية ؟

.....

السؤال الرابع :

أولاً: أ. قارن في جدول بين الممرات المائية الواضحة في الخريطة من حيث:-

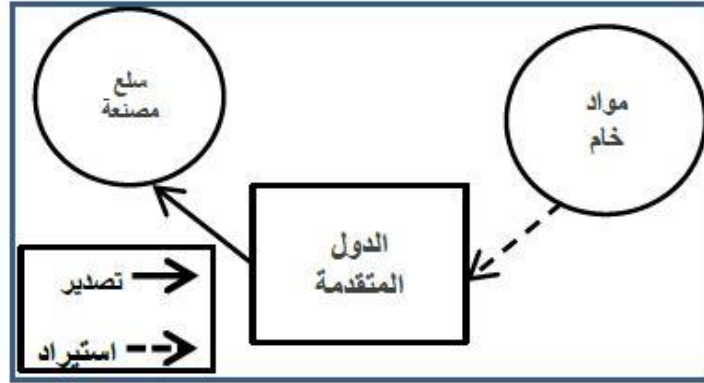


أوجه المقارنة	١	٢
المسطحات المائية التي يربط بينها
الأهمية الاستراتيجية

تابع : السؤال الرابع :

ب. فسر / استخدام الإنسان للممرات والمضائق المائية ... يكتفى باثنين

ثانياً: الشكل يوضح أحد العوامل المؤثرة في التجارة الدولية .. في ضوء ذلك اجب عن الأسئلة التالية:-

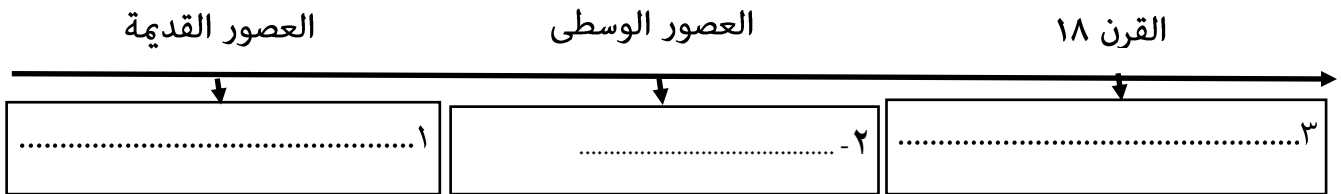


١- ما المقصود بالتجارة الدولية .

٢- ما العامل المؤثر في التجارة الدولية.

٣- اشترى محمد جهازا لوحيا من موقع Iphone في ضوء العبارة ،ما نوع التجارة التي استخدمها في عملية الشراء؟ ..

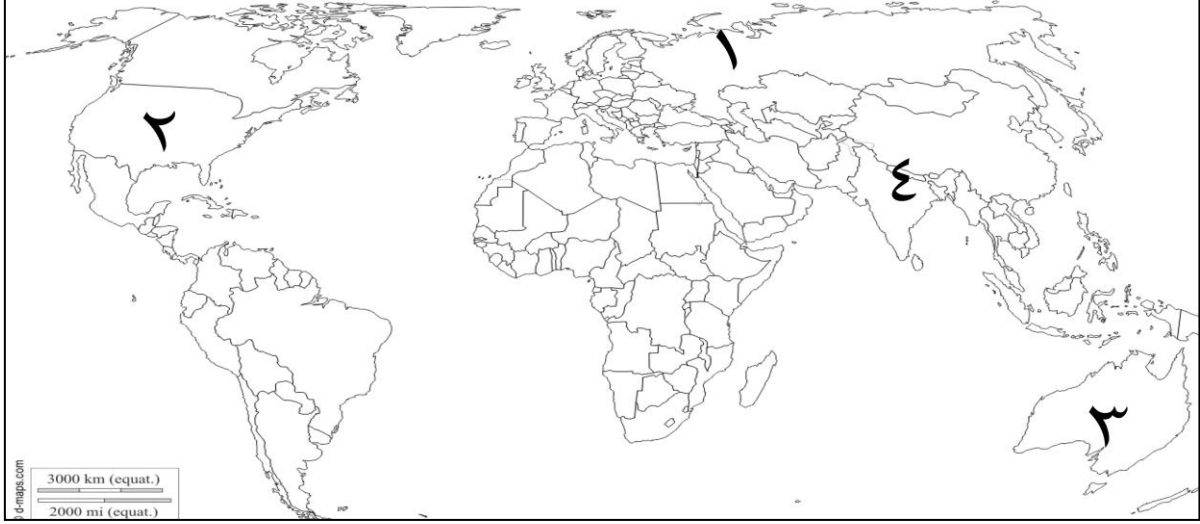
ثالثاً: تتبع مراحل التطور التاريخي للسياحة في المسطرة الزمنية التالية:-
(العلاج بالمياه المعدنية-المزارات الدينية -المناطق الطبيعية- المهرجانات الرياضية)



المادة : الجغرافيا الاقتصادية الصف : الحادي عشر (الفترة الصباحية) - الدور الأول
الفصل الدراسي الثاني - العام الدراسي ٢٠٢٢/٢٠٢٣ م

السؤال الخامس:

أولاً: ادرس خريطة العالم التالية ثم اجب عن الأسئلة التالية:-



- ١- الرقم الذي يشير إلى أكثر الوجهات تنشيطاً للسياحة البيئية ()
- ٢- ظلل على الخريطة الدولة التي تنشط فيها رياضة التزلج على الرمال
- ٣- الرقم الذي يشير إلى الدولة التي تنشط فيها رياضة تسلق الجبال ()
- ٤- الرقم الذي يشير إلى أكبر شبكة نقل عن طريق السكك الحديدية ()
- ٥- كيف استطاعت كينيا تطبيق السياحة البيئية المستدامة؟

ثانياً: نوع العلاقة بين دخل الفرد والطلب على الرحلات السياحية

- طردية
- عكسية
- (اختر الإجابة الصحيحة)

فسر إجابتك /

.....

تابع السؤال الخامس

ثالثاً: الشكل يوضح الميزان التجاري لإحدى الدول .. ادرسه جيداً ، ثم أجب عما يلي:-
١. ما المقصود بالميزان التجاري؟

.....
.....

٢. من خلال الشكل المقابل ،
كم يبلغ الميزان التجاري للدولة ؟

.....

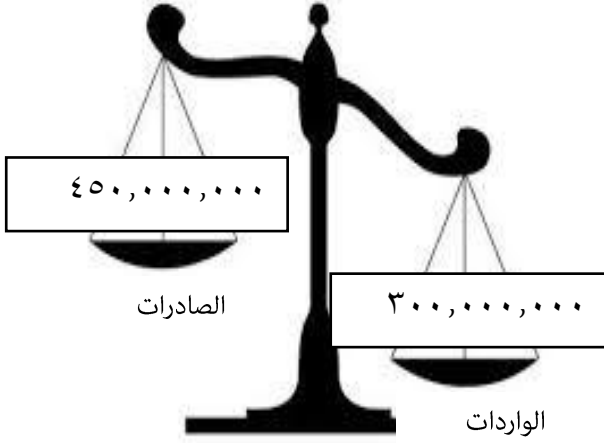
أيهما تفضل في الميزان التجاري :-

السالب

الموجب (اختر)

فسر إجابتك :

.....
.....



انتهت الأسئلة مع الدعاء للجميع بالتوفيق والنجاح.